

1. Bilim insanları canlıları benzer ve farklı özelliklerine göre sınıflara ayırmışlardır.

Yapılan bu sınıflandırmada aşağıdakilerden hangisi yer almaz?

- A) Hayvanlar B) Bitkiler  
C) Toprak D) Mikroskopik canlılar

2.







Empty box for the student's answer.

Öğretmenin sorusuna, aşağıdaki öğrencilerden hangisinin verdiği yanıt doğru değildir?

- A) **İclal**  
Beslenme biçimleri
- B) **İlknur**  
Çoğalma şekilleri
- C) **İsmail**  
İç yapıları
- D) **Umut**  
Yaşadıkları çevre

3. Aşağıdaki canlılardan hangisi kedi ile aynı grupta yer alır?

- A) 
- B) 
- C) 
- D) 

4.



Canlıları benzerlik ve farklılıklarına göre gruplandırabiliriz.



Sınıflandırma, canlıları incelememizi kolaylaştırır.



Canlıları; hayvanlar, ağaçlar, mantarlar ve mikroskopik canlılar olarak gruplandırabiliriz.

Yukarıdaki öğrencilerden hangisinin ya da hangilerinin ifadeleri doğrudur?

- A) Yalnız Sema B) Sema ve Serkan  
C) Serkan ve Zehra D) Sema ve Zehra

5.



1



2



3

Bitki

Hayvan

Mantar

K





L

M

Yukarıda numaralandırılmış canlılar, hangi seçenekte altlarındaki canlı grupları ile eşleştirilmiştir?

	K	L	M
A)	2	1	3
B)	1	2	3
C)	3	1	2
D)	3	2	1





6. Aşağıdaki canlılardan hangisi diğer üçünden farklı bir grupta yer alır?

- A) 
- B) 
- C) 
- D) 

7. Aşağıdakilerin hangisinde bitkilerin bilimsel sınıflandırılması verilmiştir?

- A) Çiçeksiz bitkiler - Çiçekli bitkiler
- B) Salon bitkileri - Orman bitkileri
- C) Yeşil bitkiler - Renkli bitkiler
- D) Otsu bitkiler - Odunsu bitkiler

8. Aşağıdaki canlılardan hangisi, bitkiler grubuna giremez?


- A) 
- B) 
- C) 
- D) 



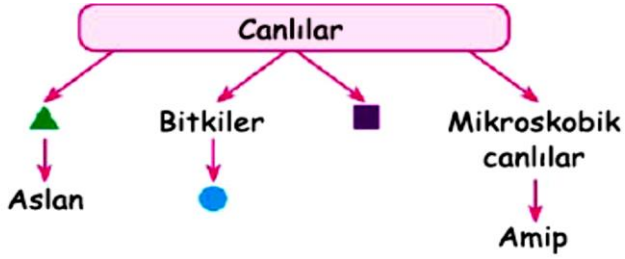
9.



Aşağıdaki canlılardan hangisi yukarıda görseli verilen canlı ile aynı grupta yer alır?



10.



Yukarıda verilen kavram haritasında ▲, ve ● ile gösterilen yerlere aşağıdakilerden hangisi getirilmelidir?

- |              |             |                |
|--------------|-------------|----------------|
| ▲            | ■           | ●              |
| A) Mantarlar | Peynir küfü | Kültür mantarı |
| B) Hayvanlar | Mantarlar   | Menekşe        |
| C) Hayvanlar | Menekşe     | Mantarlar      |
| D) Balıklar  | Ağaçlar     | Kedi           |

1.

Canlıların gruplandırılmasında, beslenme özellikleri de dikkate alınmıştır.

Buna göre kendi besinini kendisi üreten canlı grubu aşağıdakilerden hangisidir?

- A) Bitkiler  
B) Mikroskobik canlılar  
C) Hayvanlar  
D) Mantarlar

2. Aşağıdaki canlılardan hangisi saksıda yaşmaya uygun değildir?

- A) Menekşe B) Gül  
C) Orkide D) Çınar

3.



I. Gül



II. Şeftali ağacı



III. Erik ağacı




IV. Eğrelti otu

Yukarıda görselleri verilen bitkilerden hangisi çiçeksiz bitkiler sınıfında yer alır?

- A) Eğrelti otu B) Şeftali ağacı  
C) Erik ağacı D) Gül


4. Aşağıdakilerden hangisi çiçekli bitkiler sınıfında yer alır?



5.

Turp, havuç, soğan ve patates gibi bitkilerin besinleri depo ettiği bölümdür.

Yukarıdaki ifadede anlatılmak istenen bitki yapısı aşağıdakilerden hangisinde gösterilmiştir?



6. Aşağıda iki farklı bitki gösterilmiştir.



Kibrit otu



Orkide

Buna göre, aşağıdakilerden hangisi bu bitkilerde ortak olarak gözlenemez?

- A) Renkli çiçeklere sahiptir.  
B) Topraktan kökleriyle su ve mineral alır.  
C) Yapraklarıyla solunum ve terleme yapar.  
D) Yeşil yaprakları vardır.

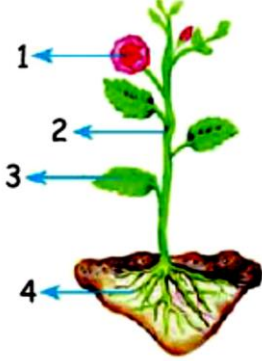


7. I. Kök  
II. Gövde  
III. Yaprak  
IV. Çiçek

Yukarıda verilen bitki kısımlarından hangisi eğrelti otunda bulunmaz?

- A) Kök  
B) Gövde  
C) Yaprak  
D) Çiçek

8.



Bir bitkinin yapısında bulunan bölümler yandaki şekilde numaralar ile gösterilmiştir.

Buna göre, 2 numaralı bölüm aşağıdakilerden hangisinde verilmiştir?

- A) Kök  
B) Gövde  
C) Yaprak  
D) Çiçek

9.

- Solunum, boşaltım ve terleme görevlerini yapar.
- Fotosentez ile besin ve oksijen üretir.





Yukarıda görev ve işlevleri açıklanan bitki yapısı aşağıdakilerden hangisidir?

- A) Çiçek  
B) Kök  
C) Yaprak  
D) Gövde

10.

- Renkli yapraklarıyla böcek ve kuşları kendine çeker.
- Bitkinin üreme organıdır.
- Tohum ve meyvenin olduğu bölümdür.

Yukarıda özellikleri sıralanan bitki bölümü aşağıda verilen bitkilerden hangisinde bulunur?

- A)  Çiğer otu  
B)  Üzüm bağı  
C)  Kara yosunu  
D)  Eğrelti otu

1. Lale, gül ve papatya gibi çiçekli bitkilerin renkli olan bölümleri çiçeğin aşağıda verilen hangi yapısıdır?

- A) Taç yaprak  
B) Dişi organ  
C) Erkek organ  
D) Çanak yaprak

2.



Bitkinin bir yapısı yanda gösterilmiştir.

Buna göre, aşağıda verilenlerden hangisi bu yapının görevlerinden biri değildir?

- A) Terleme yapmak  
B) Solunum yapmak  
C) Toprakta mineral almak  
D) Besin üretmek

3.

Eğrelti otu, kara yosunu ve kibrit otu çiçeksiz bitkilerdir.







Yukarıda verilen ifadelerin doğru (D) veya yanlış (Y) olduğuna karar verilerek ilgili ok yönünde ilerlenirse hangi çıkışa ulaşılır?

- A) 1. çıkış  
B) 2. çıkış  
C) 3. çıkış  
D) 4. çıkış

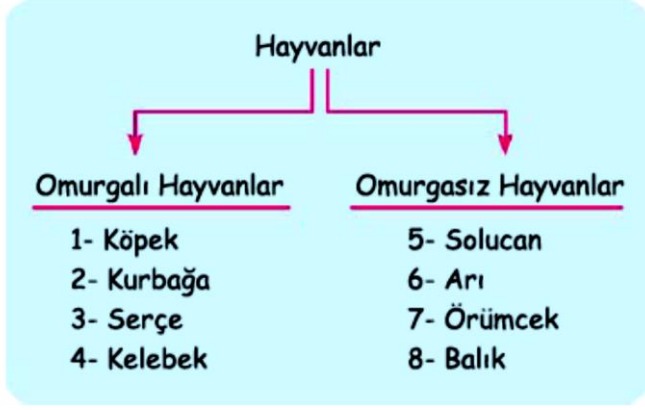
4.

Hayvanlar sınıflandırılırken; vücutlarında omurga bulunduranlar omurgalı, bulundurmayanlar omurgasız hayvanlar olarak isimlendirilir.

Buna göre aşağıdaki hayvanlardan hangisi diğer üçünden farklı bir grupta yer alır?

- A)  B)   
C)  D) 

5. Aşağıdaki şemada hayvanların sınıflandırılması ve canlı örneklerine yer verilmiş, ancak bazı yerlerde hata yapılmıştır.



Buna göre, şemanın doğru olması için aşağıda verilen hangi ikililerin yer değiştirmesi gerekir?

- A) 4 ve 5                      B) 4 ve 8  
C) 1 ve 7                      D) 3 ve 6

6.



Öğretmen

Omurgalı hayvanlar grubundaki kuşlar hakkında neler biliyorsunuz?



Cemil

Akciğer solunumu yaparlar.



Ceyda

Bütün kuşlar uçabilir.



Tuna

Vücutları tüylerle kaplıdır.

Buna göre hangi öğrencilerin yorumları doğrudur?

- A) Cemil ve Tuna  
B) Yalnız Ceyda  
C) Cemil ve Ceyda  
D) Cemil, Ceyda ve Tuna

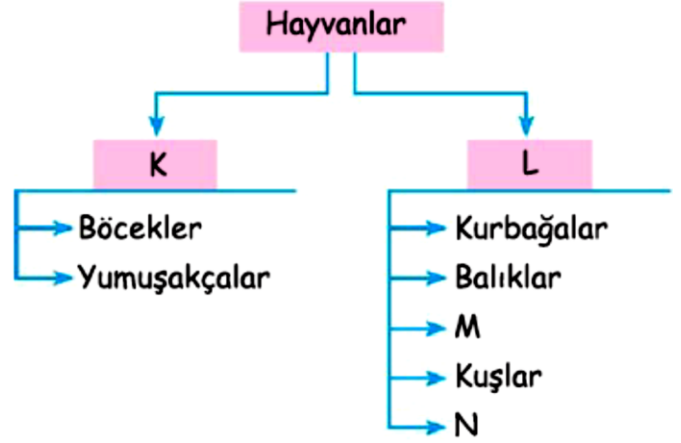
8.

- Solucan      • Kurbağa      • Karınca  
• Balık        • Kelebek      • Akrep

Yukarıda isimleri verilen hayvanlardan kaç tanesi omurgasız hayvanlar sınıfında yer alır?

- A) 2      B) 3      C) 4      D) 5

7. Aşağıda hayvanların sınıflandırılmasına ait kavram haritası verilmiştir.



Kavram haritasında K, L, M ve N ile gösterilen yerlerin herhangi birine aşağıda verilenlerden hangisi getirilemez?

- A) Memeliler                      B) Omurgasızlar  
C) Kaptumbağalar                D) Omurgalılar


9.

- Doğurarak çoğalırlar.
- Yavrularını sütle beslerler.
- Omurgalı hayvanlar sınıfındadırlar.

Buna göre aşağıdaki hayvanlardan hangisi özellikleri verilen grupta yer alır?



10.



Aşağıdaki özelliklerden hangisi, resimde verilen canlı sınıfına ait değildir?

- A) Doğurarak çoğalırlar.  
B) Vücudu pullarla kaplıdır.  
C) Sudaki oksijeni kullanırlar.  
D) Deniz, göl, okyanus ve akarsularda yaşarlar.

TEST-1	1	2	3	4	5	6	7	8	9	10
	C	D	A	B	A	B	A	D	C	B
TEST-2	1	2	3	4	5	6	7	8	9	10
	A	D	A	C	D	A	D	B	C	B
TEST-3	1	2	3	4	5	6	7	8	9	10
	A	C	B	D	B	A	C	C	B	A