

**A**

5. Sınıf 2. Ünite Çıkmış Sorular 4/4 Testi (5.2.)  
2. Ünite: Canlıları Tanıyalım

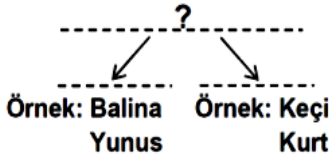
Soru-1-)

Şekilde verilen gaga yapısına bakan bir öğrenci, bu kuşun hangi özelliği ile ilgili tahminde bulunabilir?



- A) Yavru sayısı  
B) Göç edip etmediği  
C) Yaşama süresi  
D) Beslenme şekli

Soru-2-)



Yukarıda verilen sınıflandırma şemasında canlılar iki gruba ayrılıp bu gruplara ait örnek verilmiştir.

Buna göre “?” yerinde hangi ifade olmalıdır?

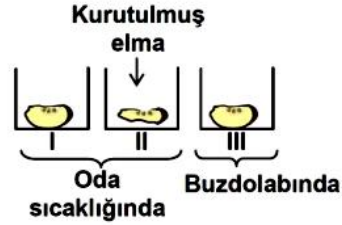
- A) Hem karada hem de suda yaşayan omurgalı hayvanlar  
B) Yaşadıkları ortama göre memeli hayvanlar  
C) Beslenme şekline göre memeli hayvanlar  
D) Çoğalma şekline göre omurgalı hayvanlar

Soru-3-)

Aşağıdakilerden hangisi memeli hayvanlara ait bir özelliktir?

- A) Kılıklı vücut  
B) Pullu deri  
C) Solungaç solunumu  
D) Kuluçkaya yatma

Soru-4-)



Yukarıdaki düzeneklerde deney yapan bir öğrenci, bir hafta sonra sadece I. kaptaki elma diliminde küf mantarı görüyor.

Öğrenci, bu deneyden küf mantarı ile ilgili aşağıdaki sonuçların hangisine ulaşamaz?

- A) Nemli ortamı sever.  
B) Besinini kendi yapar.  
C) Oda sıcaklığında yaşar.  
D) Besinlerin bozulmasını sağlar.

Soru-5-)

Zararlı bir mikroskopik canlı 15 °C in üzerindeki sıcaklıklarda besinler üzerinde hızla çoğalmaktadır.

Aşağıda verilen, besin saklama yöntemlerinden hangisi bu durumla ilgilidir?

- A) İyice pişirme  
B) Kaynatıp, soğutma  
C) Tuzlu suda bekletme  
D) Buzdolabında saklama

Soru-6-)

Hangi tür atıklar çevrede kalıcı kirliliğe  yol açmaz?

- A) Plâstik poşet  
B) Kurşunlu atıklar  
C) Deterjanlar  
D) Kurumuş bitki yaprakları

Soru-7-)

Aşağıdakilerden hangisi bitkilerin özelliklerinden değildir?

- A) Besin yapma                      B) Besin depo etme  
C) Yer değiştirme                      D) Enerji kullanma

Soru-8-)

Bazı mantarların sebep olduğu hastalıklar bulaşıcıdır. Aşağıdakilerden hangisi bu durumla ilgilidir?

- A) Sadece kendi eşyalarını kullanma  
B) Sürekli spor yapma  
C) Sadece hayvansal besinleri tüketme  
D) Uykuya daha fazla zaman ayırma

Soru-9-)

Aşağıdakilerden hangisi, besinleri bakterilerin zararlı etkilerinden korumaz?

- A) Konserve yapmak  
B) Pastörize etmek  
C) Derin dondurucuda bulundurmak  
D) Nemli ortamda bulundurmak

Soru-10-)

Bir bakteri türü, besinlerin sadece hava ile temas eden kısımlarında yaşayabilir. Buna göre, hangi ortamdaki ekmek üzerinde bu bakteri türü daha hızlı çoğalır?

- A) Buzdolabına konan  
B) Su içine bırakılan  
C) Kurutulup kâğıt torbaya konan  
D) Açıkta bırakılan

Soru-11-)

Mantarlar nemli ortamlarda hızla çoğalır. Buna göre ayağında mantar hastalığı olan biri hangi uygulamayı yapmalıdır?

- A) Ayaklarını sürekli ıslak tutmalı  
B) Ayaklarını yıkadıktan sonra iyice kurulamalı  
C) Nemli çorap giymeli  
D) Dar ayakkabıları çorapsız giymeli

Soru-12-)

. Bir öğrenci incelediği bitkide bulunan kısımları tabloya yazmıştır.

Kısımlar	Kök	Yaprak	Çiçek
Bitki	Yok	Var	Yok

Buna göre bu bitki aşağıdakilerden hangisi olabilir?

- A) Fasulye bitkisi                      B) Çam ağacı  
C) Elma ağacı                              D) Kara yosunu

Soru-13-)





Canlılar benzer özelliklerine göre sınıflandırılır.

Buna göre aşağıda verilen hayvan çiftlerinden hangisinin, birbirleriyle olan ortak özellik sayısı en fazladır?

- A) Güvercin – Yarasa                      B) Kurbağa – Kertenkele  
C) Yarasa – Tavşan                              D) Yunus – Köpek balığı  
E) Kurbağa – Su yılanı

## Soru-14-)

Üzerinde küf oluşmuş bir ekmek parçasını inceleyen öğrencinin gözlem notları tablodaki gibidir.

Gözlem yapılan örnek	Gözlem aracı	Gözlem sonucu
Küflü görünen kısım	çıplak göz	
Küflü görünen kısım	mikroskop	
Küflü görünmeyen beyaz kısım	çıplak göz	
Küflü görünmeyen beyaz kısım	mikroskop	

**Bu gözleme göre küf mantarı ile ilgili olarak aşağıdakilerden hangisi yanlıştır?**

- A) Besinler üzerinde çoğalarak küflenmeye neden olur.
- B) Çıplak gözle, küflü görünen bölge dışında küflere rastlanmaz.
- C) Çoğaldıklarında çıplak gözle görülebilirler.
- D) Mikroskopik canlılardır.

## Soru-15-)

Ayşe, bahçedeki hayvanları gözlüyor. Eve gelince özelliklerini yazıyor.

I. Hayvan

II. Hayvan

Özellikleri:

Kanatları var.  
Uçarak hareket ediyor.  
Çiçekli bitkilerin  
üremesine yardımcı oluyor.

Özellikleri:

Otlarla besleniyor.  
Kulakları büyük olup  
vücudu kılla kaplıdır.

**Verilen özelliklere göre bu hayvanlar aşağıdakilerden hangisi olabilir?**

I. Hayvan

II. Hayvan

- |          |            |
|----------|------------|
| A) Arı   | Tavşan     |
| B) Serçe | Solucan    |
| C) Kedi  | Kaplumbağa |
| D) Sinek | Tavuk      |

## Soru-16-)

Aşağıdaki şekilde üç bitki gösterilmiştir.



Elma ağacı



Eğrelti otu



Atkuyruğu

**Bu bitkiler aşağıdakilerden hangisindeki gibi gruplandırılabilir?**

- A) Tohumlu - Tohumuz
- B) Oksijen üreten - Oksijen üretmeyen
- C) Gözle görülen - Mikroskopik
- D) Karada yaşayan - Suda yaşayan

## Soru-17-)

Bir göl yakınında yaşayan canlıları gösteren resim şekildeki gibidir.



**Bu resimde aşağıdaki canlı gruplarından hangisine ait örnek yoktur?**

- A) Memeliler
- B) Kurbağalar
- C) Omurgasız hayvanlar
- D) Sürüngenler

## Soru-18-)

**Aşağıda, hayvanlar alemine ait bir sınıflandırma verilmiştir.**

Hayvanlar alemi : Kelebek, kartal, aslan, kuş, alabalık,  
↓ salyangoz, keçi, kurt

Omurgalılar : Kartal, aslan, kuş, alabalık, keçi,  
↓ kurt

Memeliler : Aslan, keçi, kurt

↓  
? : Aslan, kurt

**Buna göre “?” işareti görülen yere aşağıdakilerden hangisi yazılmalıdır?**

- A) Doğurarak çoğalanlar
- B) Etçiller
- C) Yırtıcılar
- D) Büyükbaş hayvanlar